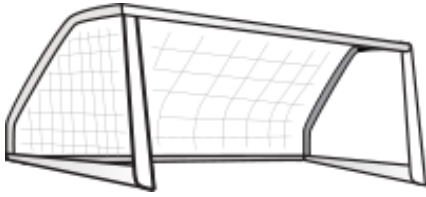
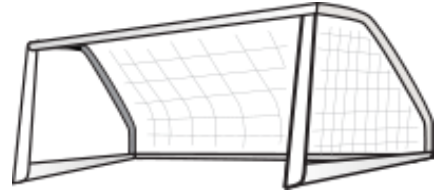


Which Goal? (B)

Choose the correct goal for each question.



Goal 1



Goal 2

92

«

65 + 27

»

94

174

«

85 + 89

»

169

106

«

57 + 50

»

107

93

«

44 + 49

»

85

36

«

15 + 29

»

44

142

«

75 + 68

»

143

91

«

10 + 85

»

95

55

«

43 + 12

»

63

156

«

84 + 72

»

150

193

«

99 + 94

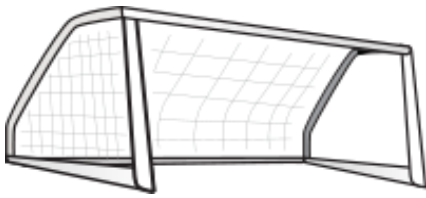
»

200


Goals Scored: _____

Which Goal? (B) Answers

Choose the correct goal for each question.



Goal 1



Goal 2

<input type="checkbox"/> 92	«	<input checked="" type="checkbox"/> $65 + 27$	»	94
<input type="checkbox"/> 174	«	<input checked="" type="checkbox"/> $85 + 89$	»	169
<input type="checkbox"/> 106	«	<input checked="" type="checkbox"/> $57 + 50$	»	<input type="checkbox"/> 107
<input type="checkbox"/> 93	«	<input checked="" type="checkbox"/> $44 + 49$	»	85
<input type="checkbox"/> 36	«	<input checked="" type="checkbox"/> $15 + 29$	»	<input type="checkbox"/> 44
<input type="checkbox"/> 142	«	<input checked="" type="checkbox"/> $75 + 68$	»	<input type="checkbox"/> 143
<input type="checkbox"/> 91	«	<input checked="" type="checkbox"/> $10 + 85$	»	<input type="checkbox"/> 95
<input type="checkbox"/> 55	«	<input checked="" type="checkbox"/> $43 + 12$	»	63
<input type="checkbox"/> 156	«	<input checked="" type="checkbox"/> $84 + 72$	»	150
<input type="checkbox"/> 193	«	<input checked="" type="checkbox"/> $99 + 94$	»	200

Goals Scored: _____